

PRIMERAS NOCIONES

Conceptos primitivos: Conjunto y elemento de un conjunto.

Formas de determinar un conjunto:

- 1) Decimos que un conjunto está determinado por **extensión** cuando se nombra cada uno de sus elementos.
- 2) Decimos que un conjunto está determinado por **comprensión** cuando se dan propiedades que caracterizan a los elementos del conjunto y sólo a ellos.

Ejemplos:

Sea $A = \{0, 2, 4, 6\}$, este conjunto está determinado por extensión, para determinarlo por comprensión podemos escribir: $A = \{x \in \mathbb{N} / x = 2, x \leq 6\}$.

De la misma forma, si consideramos $B = \{x \in \mathbb{N} / 2x < 9\}$ podemos escribirlo por extensión: $B = \{0, 1, 2, 3, 4\}$.

Ejercicio 1

Analiza si los siguientes conjuntos están bien determinados y en ese caso indica si están determinados por extensión o por comprensión:

- | | | |
|--|---|--|
| $A = \{a \in \mathbb{N} / 5 \leq a \leq 8\}$ | $B = \{15, \sqrt{3}, a, b\}$ | $C = \{c \in \mathbb{N} / c = 2\}$ |
| $D = \{d \in \mathbb{R} / 2 < d < 3\}$ | $E = \{e / 1 < e < 3\}$ | $F = \{-1, 0, 1, 2, 3\}$ |
| $G = \{f \in \mathbb{Z} / -1 \leq f < 4\}$ | $H = \{h \in \mathbb{N} / 2 < h < 4\}$ | $I = \{i \in \mathbb{N} / 2 < i < 3\}$ |
| $J = \{j \in \mathbb{N} / 3 \leq j \leq 8\}$ | $K = \{k \in \mathbb{N} / 5 \leq k \leq 11\}$ | |

Igualdad de conjuntos

Decimos que dos conjuntos son iguales cuando tienen los mismos elementos.

- Simbólicamente: $A = B \Leftrightarrow \forall x(x \in A \Leftrightarrow x \in B)$.

Conjunto vacío

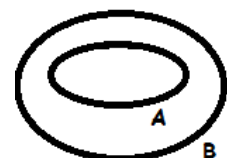
Al conjunto al cual no pertenece ningún elemento le decimos conjunto vacío.

- Simbólicamente: $\phi = \{x \in E / x \notin E\}$

Inclusión de conjuntos

Dados dos conjuntos A y B, decimos que A está incluido en B sí y sólo sí, todos los elementos de A pertenecen a B.

- Simbólicamente: $A \subset B \Leftrightarrow \forall x(x \in A \Rightarrow x \in B)$.
- Si $A \subset B$ entonces A es un subconjunto de B.
- En un diagrama esto se puede representar:



CONJUNTOS NUMÉRICOS (Lee el material colgado en aulas virtuales).

Ejercicio 2

Sea $A = \{-5; -\frac{1}{3}; 0; \sqrt{2}; 7; \frac{2}{5}; 1 - \sqrt{3}; 1,41; -0,33; \sqrt{9}; 2; -\frac{8}{2}\}$, determina por extensión los conjuntos:

$$B = \{x \in A / x \notin \mathbb{Z}\} \quad C = \{x \in A / x \notin \mathbb{Q}\}$$
$$D / D \subset A \text{ y } D \subset \mathbb{N} \quad E = \{x \in A / x^2 = 2\}$$

Ejercicio 3

Indica el valor de verdad de las siguientes afirmaciones:

- Todo número entero es racional.
- Todo número irracional es real.
- Algunos números enteros son naturales.
- Entre dos números enteros hay siempre otro número entero.
- Entre dos números racionales hay siempre infinitos números racionales.

Ejercicio 4

- Encuentra si es posible:
 - Un número racional no entero.
 - Un número entero no racional.
 - Un número real no entero cuyo cuadrado sea un número natural.
 - Un número real cuyo cuadrado sea -1 .
 - Un número real comprendido entre $2,14$ y $2,15$.
 - Un número racional comprendido entre $\frac{4}{5}$ y $\frac{5}{6}$.
- En los casos en que sea posible, escribe un número x que cumpla las siguientes condiciones:
 - $x \in \mathbb{N} / x \in (-2, 1)$
 - $x \in \mathbb{Z} / x \in (-4,5; -4)$
 - $x \in \mathbb{Q} / x \in (0,33; \frac{1}{3})$
 - $x \in \mathbb{Q} / x \in (3,14; \pi)$

$[a, b] = \{x \in \mathbb{R} / a \leq x \leq b\}$
$(a, b) = \{x \in \mathbb{R} / a < x < b\}$

Ejercicio 5

Si $n \in \mathbb{N}$, determina, en caso que existan, para qué valores de n estos números pertenecen a \mathbb{Z} :

- a) $\frac{n}{2}$ b) $\frac{3}{n}$ c) $n - 5$ d) $n + \frac{1}{2}$

Ejercicio 6

Sea $A = \{\sqrt{2}, -\sqrt{3}, 0, \sqrt{5}\}$ y $B = \{-1, \sqrt{8}, \sqrt{12}\}$

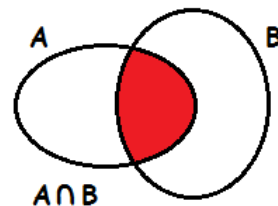
- Sea $C = \{x \in \mathbb{R} / x = a \cdot b, a \in A, b \in B\}$. Determinalo por extensión. Identifica a qué conjunto numérico pertenece cada elemento de C .
- ¿Es posible afirmar que el producto de dos irracionales es un número irracional? Justifica.
- ¿Es posible afirmar que el producto de dos irracionales es un número racional? Justifica.
- ¿Es posible afirmar que el producto de dos racionales es un número racional?

OPERACIONES CON CONJUNTOS

Intersección de conjuntos

Dados dos conjuntos A y B, llamamos A intersección B al conjunto de todos los elementos que pertenecen a A y también pertenecen a B.

- Simbólicamente: $A \cap B = \{x / x \in A \text{ y } x \in B\}$
- En un diagrama esto se puede representar:



Ejercicio 7

Dados $A = \{x \in \mathbb{Z} / -1 \leq x < 4\}$ y $B = \{x \in \mathbb{Z} / 0 \leq x < 5\}$, determina $A \cap B$ por extensión.

Ejercicio 8

Sean: $A = [-1, 4]$ y $B = (2, 7)$, halla $A \cap B$.

Ejercicio 9

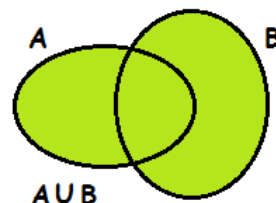
Sean $A = [\sqrt{3}, 4]$ y $B = (1,8; 6]$.

- Determina como intervalo $A \cap B$.
- Determina por extensión $A \cap \mathbb{Z}$.
- Escribe 3 elementos de $B \cap \mathbb{I}$ y 3 elementos de $(A \cap B) \cap \mathbb{Q}$.

Unión de conjuntos

Dados dos conjuntos A y B, llamamos A unión B al conjunto de todos los elementos que pertenecen a A y/o pertenecen a B.

- Simbólicamente: $A \cup B = \{x / x \in A \text{ y/o } x \in B\}$
- En un diagrama esto se puede representar:



Ejercicio 10

Dados $A = [-\frac{3}{2}, 6]$ y $B = (-1, 4)$, determina $A \cup B$.

Ejercicio 11

Halla: $\mathbb{N} \cap \mathbb{Z}$, $\mathbb{N} \cup \mathbb{Z}$, $\mathbb{Z} \cap \mathbb{Q}$, $\mathbb{Z} \cup \mathbb{Q}$, $\mathbb{Q} \cap \mathbb{I}$, $\mathbb{Q} \cap \mathbb{I}$.

Ejercicio 12

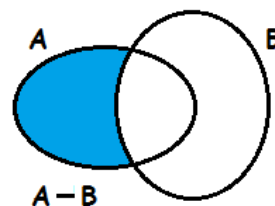
Sean $A = \left\{1; \frac{1}{2}; -\sqrt{2}; 2\sqrt{5}; (1-\sqrt{2})(1+\sqrt{2}); -\frac{4}{5}; -\frac{8}{2}\right\}$ y $B = \{x \in \mathbb{R} / x < -\frac{1}{2}\}$.

Halla: $A \cap B$, $A \cap \mathbb{Q}$, $(A \cup B) \cap \mathbb{Z}$, $(B \cap \mathbb{Z}) \cup \mathbb{N}$.

Diferencia de conjuntos

Dados los conjuntos A y B, llamaremos “diferencia de A y B” o “complemento relativo de B respecto a A”, al conjunto de todos los elementos que pertenecen a A y no pertenecen a B.

- Simbólicamente: $A - B = \{x / x \in A \text{ y } x \notin B\}$
- Por lo que: $x \in (A - B) \Leftrightarrow x \in A \text{ y } x \notin B$
- En un diagrama esto se puede representar:



Ejercicio 13

Dados $A = \{x \in \mathbf{N} / x < 23 \wedge x = \dot{5}\}$ y $B = \{1, 5, 9\}$, determina por extensión $A - B$ y $B - A$.

Ejercicio 14

Sean $A = \{x \in \mathbf{R} / -2 \leq x < 5\}$, $B = \{x \in \mathbf{R} / -4 < x \leq 2\}$, $C = \{x \in \mathbf{R} / 0 \leq x \leq 4\}$ determina por comprensión los conjuntos: $A \cup B$; $B \cap C$; $A - (B \cup C)$; $(A - C) \cap B$.

Ejercicio 15

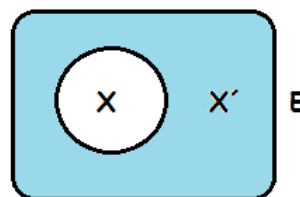
Sea $A = [-2, 5)$. Halla tres elementos de:

- $A - \mathbf{N}$
- $\mathbf{Q} - A$
- $(\mathbf{Z} - A) - \mathbf{N}$

Complemento de un conjunto

Si se considera un conjunto referencial E, y trabajamos solamente con subconjuntos de E, llamamos “complemento de X” al conjunto: $E - X$.

- Simbólicamente: $X' = E - X = \{x / x \in E \text{ y } x \notin X\} = \{x / x \notin X\}$
- En un diagrama esto se puede representar:



Ejercicio 16

Determina los conjuntos A, B y E (conjunto de referencia) que cumplan simultáneamente: $A \subset B$; $B - A = \{x \in \mathbf{N} / x < 4\}$; $A' = \{0, 1, 2, 3, 8, 9\}$; $A \cap B = \{x \in \mathbf{N} / 4 \leq x < 8\}$.

Ejercicio 17

Determina por extensión los conjuntos A y B sabiendo que:

$$A - B = \{-2, -3\}, A \cap B = \{-1, 0\} \text{ y } B - A = \{x \in \mathbf{N} / 4 < x \leq 9\}$$

Ejercicio 18

Determina por extensión los conjuntos A y B si:

$$A \cap B = \{x \in \mathbf{N} / 2 \leq x \leq 4\} \quad A \cup B = \{x \in \mathbf{N} / x < 7\} \quad B - A = \{5, 6\}$$

Ejercicio 19

Expresa los conjuntos representados por la región pintada mediante los símbolos: A, B, C, \cup , \cap , y $-$:

